

绝密★启用前

河南省 2010 年成人高等学校招生全国统一考试高中起点

历史 地理

本试卷分第 I 卷（选择题）和第 II 卷（非选择题两部分）。第 I 卷 1 至 5 页，第 II 卷 6 至 9 页。

第 I 卷（选择题，共 80 分）

注意事项：

1. 答第 I 卷前，考生务必将自己的姓名、考号、考场号、座号，用 0.5 毫米书写黑色字迹签字笔涂写在答题卡上。
2. 考试结束，将试题卷和答题卡一并交回。

一、选择题：1~40 题，每小题 2 分，共 80 分。在每小题给出的 4 个选项中，选出一项符合题目要求的。

1. 发现于陕西西安的半坡遗址属于
 - A. 河姆渡文化
 - B. 大汶口文化
 - C. 仰韶文化
 - D. 龙山文化
2. 青铜器司母戊鼎和四羊方尊铸造于
 - A. 夏代
 - B. 商代
 - C. 西周
 - D. 春秋时期
3. 西汉时期，确立“罢黜百家，独尊儒术”政策的皇帝是
 - A. 汉高祖
 - B. 汉文帝
 - C. 汉景帝
 - D. 汉武帝
4. 日本佛教建筑唐招提寺被视为“艺术明珠”，其设计者是
 - A. 李春
 - B. 鉴真
 - C. 玄奘
 - D. 僧一行
5. 下列各项中，属于北宋王安石变法内容的是
 - A. 两税法
 - B. 方田均税法
 - C. 一条鞭法
 - D. 摊丁入亩
6. 清代，雍正帝为加强皇权而采取的重大措施是
 - A. 设三公九卿
 - B. 设立行省
 - C. 废除丞相
 - D. 设立军机处
7. 在中国近代历史上，规定开放广州、厦门、福州、宁波、上海为通商口岸的条约是
 - A. 《南京条约》
 - B. 《天津条约》
 - C. 《北京条约》
 - D. 《马关条约》
8. 外国侵略军火烧圆明园发生在
 - A. 第一次鸦片战争时期
 - B. 第二次鸦片战争时期
 - C. 中法战争时期
 - D. 甲午中日战争时期

9. 洋务运动中创办的规模最大的军事工业是

- A. 江南制造总局
- B. 福州船政局
- C. 天津机器局
- D. 安庆内军械所

10. 下列各项中，提出改革科举制度、废除八股的是

- A. 百日维新
- B. 辛亥革命
- C. 新文化运动
- D. 五四运动

11. 1919 年在《新青年》上发表《我的马克思主义观》的是

- A. 李大钊
- B. 李达
- C. 陈潭秋
- D. 陈独秀

12. 1925 年广东革命政府东征打击的军阀是

- A. 孙传芳
- B. 吴佩孚
- C. 张作霖
- D. 陈炯明

13. 抗日战争全面爆发后，中国军队在正面战场抗击日军最早的一次会战是

- A. 淞沪会战
- B. 徐州会战
- C. 武汉会战
- D. 太原会战

14. 14~16 世纪，资本主义萌芽最早出现于

- A. 西班牙
- B. 法国
- C. 意大利
- D. 葡萄牙

15. 第一次工业革命是从英国的一个产业部门首先开始的，这个产业部门是

- A. 冶铁业
- B. 棉纺织业
- C. 造船业
- D. 铁路运输业

16. 18 世纪末，宣告“人是生而自由的，并且在权利上是平等的”的法律文件是

- A. 《大抗议书》
- B. 《权利法案》
- C. 1787 年宪法
- D. 《人权宣言》

17. 第二次工业革命中的发明不包括

- A. 电灯
- B. 塑料
- C. 蒸汽机
- D. 无线通讯设备

18. 第一次世界大战期间，下列国家中最后对德宣战的是

- A. 美国
- B. 英国
- C. 法国
- D. 俄国

19. 第二次世界大战后期，攻克柏林的是

- A. 苏军
- B. 美军
- C. 法军
- D. 英军

20. 1947 年，美国国务卿马歇尔发表演说，提出“欧洲复兴计划”，其要点之一是：通过美国的经济援助，使欧洲经济恢复到正常状态，以保持稳定与和平，并使“自由制度”得以存续。这表明“马歇尔计划”

- A. 没有意识形态色彩
- B. 有助于西欧经济恢复
- C. 成为冷战爆发的标志
- D. 有利于欧洲各国的联合

读图 1, 完成 21~22 题。

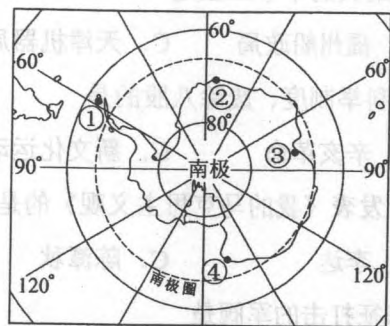


图 1

21. 我国长城科学考察站位于
- A. ① B. ② C. ③ D. ④
22. ①位于③的
- A. 东北方向 B. 西北方向 C. 西南方向 D. 东南方向
23. 地震发生时, 甲地为震中区, 乙地为邻近地区, 一般情况下两地
- A. 烈度相同, 震级乙地比甲地大 B. 震级相同, 烈度乙地比甲地大
- C. 烈度相同, 震级甲地比乙地大 D. 震级相同, 烈度甲地比乙地大

读图 2, 完成 24~25 题。

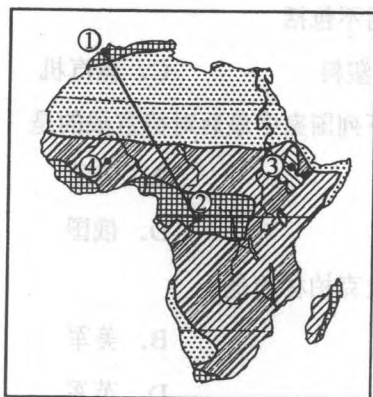


图 2

24. 由①地到②地, 沿线依次经过的气候类型是
- A. 地中海气候—热带沙漠气候—热带草原气候—热带雨林气候
- B. 地中海气候—热带草原气候—热带沙漠气候—热带雨林气候
- C. 地中海气候—热带雨林气候—热带草原气候—热带沙漠气候
- D. 地中海气候—热带沙漠气候—热带雨林气候—热带草原气候

25. ③地和④地气候类型不同, 其主要影响因素是

- A. 纬度 B. 洋流 C. 海拔 D. 海陆位置

26. 澳大利亚的人口和城市主要分布于

- A. 东南部沿海地区 B. 东北部沿海地区
- C. 西北部沿海地区 D. 西南部沿海地区

27. 美国西部太平洋沿岸地区的新兴产业部门是

- A. 造船、飞机、石油化学 B. 飞机、钢铁、电子
- C. 造船、飞机、汽车制造 D. 飞机、电子、娱乐业

28. 太阳是太阳系的中心天体, 其质量约占太阳系总质量的

- A. 99.9% B. 79.3%
- C. 50.6% D. 0.8%

29. 防止我国西北地区荒漠化加剧的首要对策是

- A. 控制人口增长 B. 工矿开发过程中重视环境保护
- C. 保护植被, 加强草场建设 D. 大力发展种植业, 控制畜牧业

30. 天然橡胶种植范围扩展到北纬 20 度以北的我国西双版纳地区, 这主要是由于

- A. 土壤的改良 B. 降水的增加
- C. 交通的便利 D. 技术的进步

31. 导致气压带和风带发生季节性移动的主要原因是

- A. 太阳直射点的位置变化 B. 地球自转
- C. 海陆热力性质差异 D. 大气环流

我国人口已进入快速老龄化阶段, 到 2020 年老年人口将达到 2.48 亿, 老龄化水平将达到 17.17%。完成 32~33 题。

32. 我国人口老龄化速度加快的主要原因是

- A. 人口自然增长率高 B. 人口死亡率下降
- C. 养老保险制度比较完善 D. 人口受教育年限增加

33. 人口老龄化速度加快, 将导致

- A. 就业压力加大
- B. 人口素质提高
- C. 劳动力资源不足
- D. 城市化水平降低

钢铁工业是工业的重要支柱, 随着生产力的发展, 钢铁工业在空间分布上发生了很大变化。完成 34~36 题。

34. 世界钢铁工业分布的变化趋势是

- A. 由临海型向临空型转移
- B. 由发展中国家向发达国家转移
- C. 由临海型向资源型转移
- D. 由发达国家向发展中国家转移

35. 上海宝钢布局选址的主要区位因素是

- A. 接近原料地
- B. 接近消费市场
- C. 土地资源丰富
- D. 环境容量大

36. 北京首钢迁至河北曹妃甸的主要目的是

- A. 缓解首都用地紧张
- B. 扩大市场需求
- C. 改善首都环境质量
- D. 减轻运输压力

37. 世界石油资源最丰富的地区是

- A. 中亚
- B. 西亚
- C. 欧洲
- D. 非洲

38. 下列省区中, 易发生滑坡灾害的是

- A. 黑龙江省
- B. 江苏省
- C. 四川省
- D. 内蒙古自治区

读图 3, 完成 39~40 题。

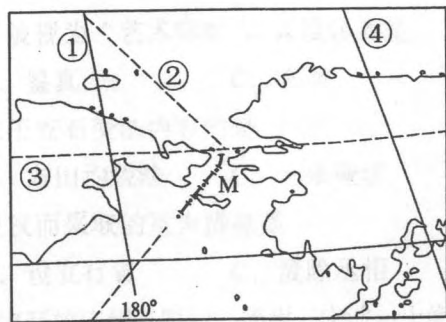


图 3

39. 图中 M 海峡是

- A. 英吉利海峡
- B. 马六甲海峡
- C. 麦哲伦海峡
- D. 白令海峡

40. 图中表示国际日期变更线的是

- A. ①
- B. ②
- C. ③
- D. ④

9. 洋务运动中创办的规模最大的军事工业是

- A. 江南制造总局
- B. 福州船政局
- C. 天津机器局
- D. 安庆内军械所

10. 下列各项中, 提出废除科举制度、废除八股的是

- A. 百日维新
- B. 辛亥革命
- C. 新文化运动
- D. 五四运动

11. 1919 年在《新青年》上发表《我的马克思主义观》的是

- A. 李大钊
- B. 李达
- C. 陈独秀
- D. 陈独秀

12. 1925 年广东革命政府东征打击的军阀是

- A. 孙传芳
- B. 吴佩孚
- C. 张作霖
- D. 陈炯明

13. 抗日战争全面爆发后, 中国军队在正面战场抗击日军最早的一次会战是

- A. 淞沪会战
- B. 徐州会战
- C. 武汉会战
- D. 太原会战

14. 14~16 世纪, 资本主义萌芽最早出现于

- A. 西班牙
- B. 法国
- C. 意大利
- D. 葡萄牙

15. 第一次工业革命是从英国的一个产业部门首先开始的, 这个产业部门是

- A. 冶铁业
- B. 棉纺织业
- C. 造船业
- D. 铁路运输业

16. 18 世纪末, 宣告“人生而自由的, 并且在权利上是平等的”的法律文件是

- A. 《人权宣言》
- B. 《权利法案》
- C. 《独立宣言》
- D. 《人权宣言》

17. 第二次工业革命中的发明不包括

- A. 电话
- B. 电灯
- C. 蒸汽机
- D. 飞机

18. 下列发明中, 属于第二次工业革命的是

- A. 蒸汽机
- B. 电灯
- C. 火车
- D. 飞机

19. 下列发明中, 属于第二次工业革命的是

- A. 蒸汽机
- B. 电灯
- C. 火车
- D. 飞机

20. 下列发明中, 属于第二次工业革命的是

- A. 蒸汽机
- B. 电灯
- C. 火车
- D. 飞机

21. 下列发明中, 属于第二次工业革命的是

- A. 蒸汽机
- B. 电灯
- C. 火车
- D. 飞机

22. 下列发明中, 属于第二次工业革命的是

- A. 蒸汽机
- B. 电灯
- C. 火车
- D. 飞机

23. 下列发明中, 属于第二次工业革命的是

- A. 蒸汽机
- B. 电灯
- C. 火车
- D. 飞机

24. 下列发明中, 属于第二次工业革命的是

- A. 蒸汽机
- B. 电灯
- C. 火车
- D. 飞机

45. 读图 6, 完成下列要求。(13 分)

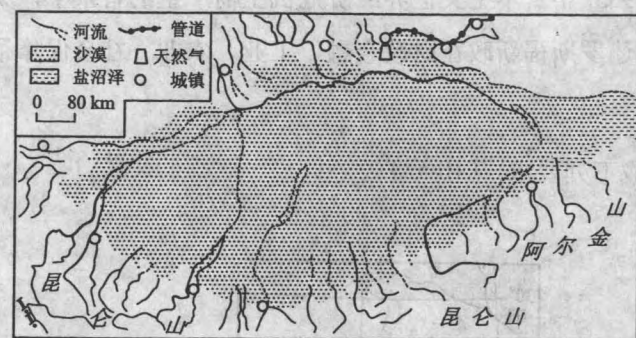


图 6

- (1) 图中的沙漠名称是_____。
- (2) 图示区域中城镇分布的主要特点是_____,
形成这种分布的主要影响因素是_____。
- (3) 图中河流主要靠_____补给, 最大补给量出现在
_____ (季节)。
- (4) 图中的管道是著名的_____工程。

46. 图 7 为世界能源(煤炭、石油、天然气、木材、核能、太阳能)消费构成变化图。分析图 7, 回答下列问题。(12 分)

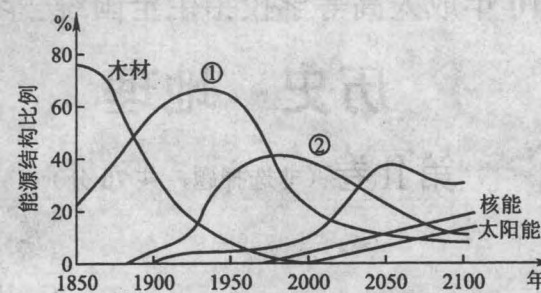


图 7

- (1) 图中①曲线表示_____的消费变化, ②曲线表示_____的
消费变化。
- (2) 21 世纪上半叶消费增长最快的能源是_____。
- (3) 核能和太阳能的发展趋势是_____。
- (4) 概述 20 世纪各种能源消费比例的变化特点。